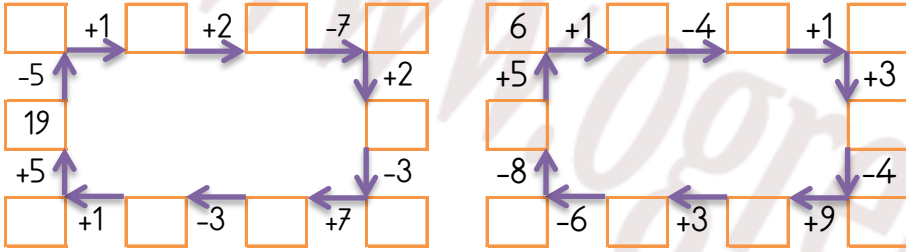


EĞLENCELİ MATEMATİK - 2

Her katın toplamı apartman numarasını veriyor. Verilmeyen numaraları bulunuz.

4 9 2			2 1			1 2 9			13 3 8		
5 2			3 4 2			8 2			5 4		
7			7 1			7			1 4		

Verilen sayıdan başlayarak ok yönünde işlemleri yapın ve verilmeyen sayıları bulun.

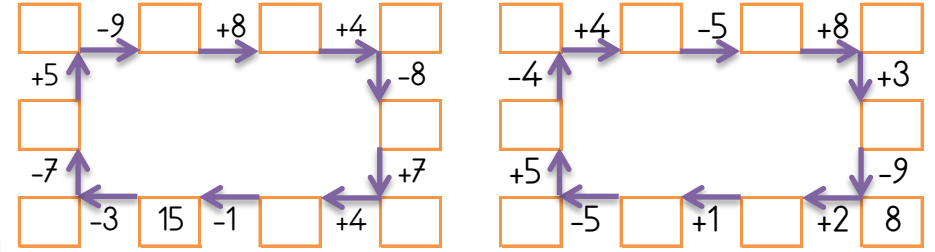


EĞLENCELİ MATEMATİK - 2

Her katın toplamı apartman numarasını veriyor. Verilmeyen numaraları bulunuz.

6			13 5 1			3 10			2 1		
9 3 2			4			10 1 5			1 1 5		
3 1			2			8 6			2 2		

Verilen sayıdan başlayarak ok yönünde işlemleri yapın ve verilmeyen sayıları bulun.

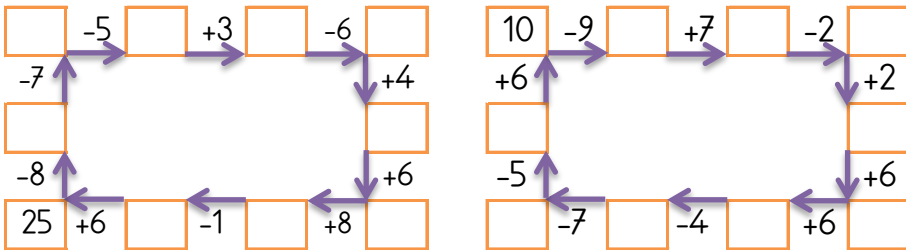


EĞLENCELİ MATEMATİK - 2

Her katın toplamı apartman numarasını veriyor. Verilmeyen numaraları bulunuz.

9			3 4 4			14			8		
5 2			5 2			5 2			5 1		
3			8			1 4			2 4		

Verilen sayıdan başlayarak ok yönünde işlemleri yapın ve verilmeyen sayıları bulun.



EĞLENCELİ MATEMATİK - 2

Her katın toplamı apartman numarasını veriyor. Verilmeyen numaraları bulunuz.

13			12			15		
3 3			1 2			1 8		
3 4			8 3			4 6 6		
1 6			3 2			3 10		

Verilen sayıdan başlayarak ok yönünde işlemleri yapın ve verilmeyen sayıları bulun.

