


HANGİ ŞEKİL?




Her bir tabloda istenilen sayıda olan şekil kutularını **boyayın**.


Hangi şekilden 4 tane var?



Hangi şekilden 4 tane var?




Hangi şekilden 3 tane var?



(SONUCU 12) GÜVENLİ KUTULARI BULMA OYUNU

3+8	1+7	13-5	16-6	6+5	7+6	19-7	10+5	10+6	4+5	Sonucu 12 olan kutular güvenli kutulardır. 6 tane güvenli kutu var. Peki bu kutuları bulabilir misiniz? (Bulduğün güvenli kutularını boyayın.)
3+7	14-6	13-5	19-3	5+4	15-2	7+7	16-2	15-2	6+5	
16-1	7+9	4+9	10+6	18-7	11+3	18-5	22-7	6+6	3+6	
5+8	6+5	4+4	16-1	8+2	16-7	21-5	20-9	9+5	10+2	
9+4	13-3	3+7	20-4	9-1	18-3	17-4	13-2	16-3	5+9	
6+6	17-5	6+7	16-6	16-7	2+6	13-1	11-1	16-2	23-9	
										Sadece 4 dakikan var!

METRE VE SANTİMETRE DÖNÜŞTÜRME



Aşağıdaki boşlukları doldurun.

$$5 \text{ m} = \dots\dots \text{ cm}$$

$$6 \text{ m} + 09 \text{ cm} = \dots\dots \text{ cm}$$

$$1 \text{ m} + 06 \text{ cm} = \dots\dots \text{ cm}$$

$$687 \text{ cm} = \dots\dots \text{ m} + \dots\dots \text{ cm}$$

$$9 \text{ m} + 95 \text{ cm} = \dots\dots \text{ cm}$$



www.ogretmenincantasi.com

Aşağıdaki boşlukları doldurun.

$$472 \text{ cm} = \dots\dots \text{ m} + \dots\dots \text{ cm}$$

$$7 \text{ m} + 93 \text{ cm} = \dots\dots \text{ cm}$$

$$7 \text{ m} + 72 \text{ cm} = \dots\dots \text{ cm}$$

$$785 \text{ cm} = \dots\dots \text{ m} + \dots\dots \text{ cm}$$

$$247 \text{ cm} = \dots\dots \text{ m} + \dots\dots \text{ cm}$$

