

















































KUMBARAMDAKİ PARALAR

<p>1</p> <table border="1" style="width: 100%; text-align: center;"> <tr> <td></td> <td></td> <td></td> <td></td> <td style="writing-mode: vertical-rl; transform: rotate(180deg);">Kumbaramda kaç para var?</td> </tr> <tr> <td>3 tane</td> <td>3 tane</td> <td>2 tane</td> <td>2 tane</td> <td></td> </tr> </table> <p>a) 4TL 80kr. b) 4TL 65kr. c) 5TL 90kr.</p>					Kumbaramda kaç para var?	3 tane	3 tane	2 tane	2 tane		<p>2</p> <table border="1" style="width: 100%; text-align: center;"> <tr> <td></td> <td></td> <td></td> <td></td> <td style="writing-mode: vertical-rl; transform: rotate(180deg);">Kumbaramda kaç para var?</td> </tr> <tr> <td>3 tane</td> <td>4 tane</td> <td>2 tane</td> <td>3 tane</td> <td></td> </tr> </table> <p>a) 4TL 30kr. b) 4TL 40kr. c) 4TL 25kr.</p>					Kumbaramda kaç para var?	3 tane	4 tane	2 tane	3 tane	
				Kumbaramda kaç para var?																	
3 tane	3 tane	2 tane	2 tane																		
				Kumbaramda kaç para var?																	
3 tane	4 tane	2 tane	3 tane																		
<p>3</p> <table border="1" style="width: 100%; text-align: center;"> <tr> <td></td> <td></td> <td></td> <td></td> <td style="writing-mode: vertical-rl; transform: rotate(180deg);">Kumbaramda kaç para var?</td> </tr> <tr> <td>2 tane</td> <td>3 tane</td> <td>4 tane</td> <td>2 tane</td> <td></td> </tr> </table> <p>a) 2TL 80kr. b) 1TL 60kr. c) 2TL 40kr.</p>					Kumbaramda kaç para var?	2 tane	3 tane	4 tane	2 tane		<p>4</p> <table border="1" style="width: 100%; text-align: center;"> <tr> <td></td> <td></td> <td></td> <td></td> <td style="writing-mode: vertical-rl; transform: rotate(180deg);">Kumbaramda kaç para var?</td> </tr> <tr> <td>4 tane</td> <td>3 tane</td> <td>3 tane</td> <td>2 tane</td> <td></td> </tr> </table> <p>a) 3TL 20kr. b) 5TL 20kr. c) 4TL 15kr.</p>					Kumbaramda kaç para var?	4 tane	3 tane	3 tane	2 tane	
				Kumbaramda kaç para var?																	
2 tane	3 tane	4 tane	2 tane																		
				Kumbaramda kaç para var?																	
4 tane	3 tane	3 tane	2 tane																		

Cevap kontrol sayıları :173 - 75 - 111 - 12

TOPLA TOPLA 30 OYUNU

Topla topla 30 oyununda amacın boş kutuları doldurmak. Her satırdaki üç sayının ve her sütundaki üç sayının toplamı 30 olmalı. Bu ipucu ile bütün sayıları bulabilirsin.

3			30
3		7	30
		4	30
30	30	30	

		9	30
	4		30
	16	12	30
30	30	30	

SAYIYA ULAŞ

Verilen sayıları yalnızca birer defa kullanabilirsin. Toplama, çıkarma ve çarpma işleminden istediğini kullanarak hedef sayıya ulaş.

7	2	8	23
$2 \times 8 = 16 \quad 16 + 7 = 23$			

6	1	2	5

5	6	9	9

5	3	7	1

5	3	2	10

4	8	5	7